



# 2ª FASE EXAME DISCURSIVO

11/12/2016

# GEOGRAFIA

## CADERNO DE PROVA

Este caderno, com dezesseis páginas numeradas sequencialmente, contém dez questões de Geografia. Não abra o caderno antes de receber autorização.

## INSTRUÇÕES

1. Verifique se você recebeu mais dois cadernos de prova.
2. Verifique se as seguintes informações estão corretas nas sobrecapas dos três cadernos: nome, número de inscrição, número do documento de identidade e número do CPF.  
**Se houver algum erro, notifique o fiscal.**
3. Destaque, das sobrecapas, os comprovantes que têm seu nome e leve-os com você.
4. Ao receber autorização para abrir os cadernos, verifique se a impressão, a paginação e a numeração das questões estão corretas.  
**Se houver algum erro, notifique o fiscal.**
5. Todas as respostas e o desenvolvimento das soluções, quando necessário, deverão ser apresentados nos espaços apropriados e escritos com caneta de corpo transparente, azul ou preta.  
**Não serão consideradas as questões respondidas fora desses espaços.**
6. Ao terminar, entregue os três cadernos ao fiscal.

## INFORMAÇÕES GERAIS

O tempo disponível para fazer as provas é de cinco horas. Nada mais poderá ser registrado após o término desse prazo.

Nas salas de prova, os candidatos não poderão usar qualquer tipo de relógio, óculos escuros e boné, nem portar arma de fogo, fumar e utilizar corretores ortográficos e borrachas.

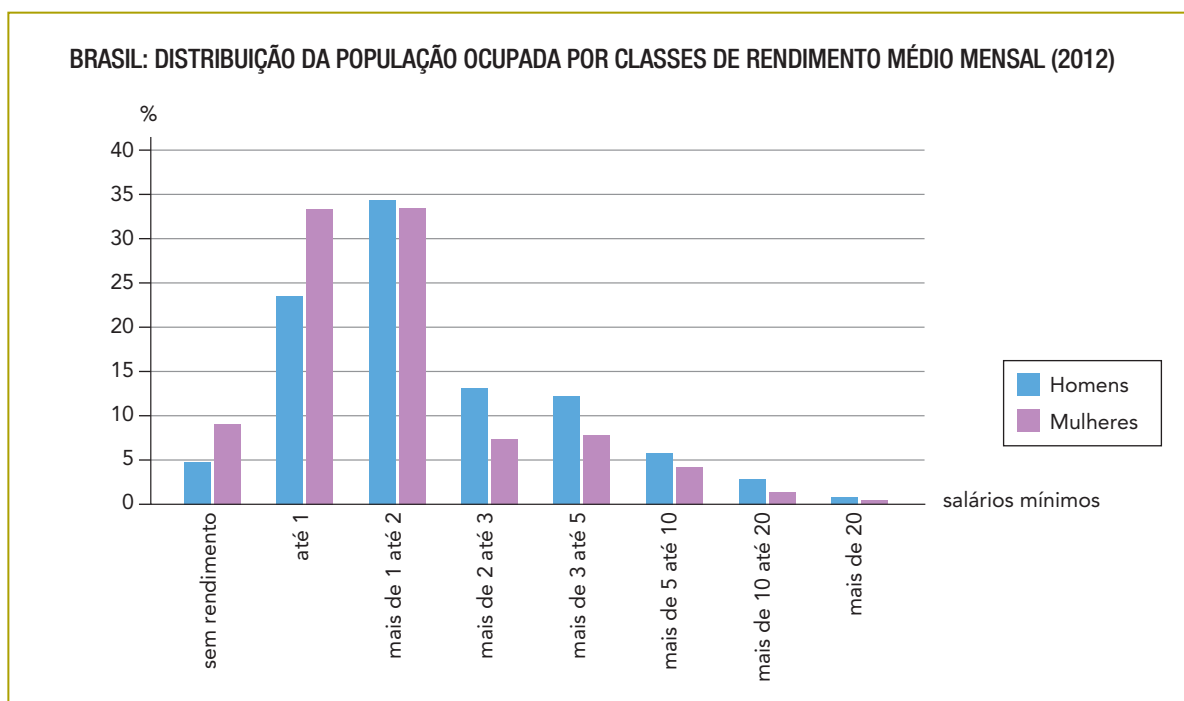
Será eliminado do Vestibular Estadual 2017 o candidato que, durante a prova, utilizar qualquer meio de obtenção de informações, eletrônico ou não.

Será também eliminado o candidato que se ausentar da sala levando consigo qualquer material de prova.

**BOA PROVA!**



QUESTÃO  
01



Adaptado de [ibge.gov.br](http://ibge.gov.br).

A participação da mulher na População Economicamente Ativa do Brasil é cada vez maior, apesar de ainda ser inferior ao total de trabalhadores do sexo masculino.

A partir do gráfico, compare a distribuição da população ocupada por classes de rendimento e de acordo com o gênero, masculino ou feminino. Em seguida, cite uma causa do aumento crescente das mulheres no mercado de trabalho.

---



---



---



---



---

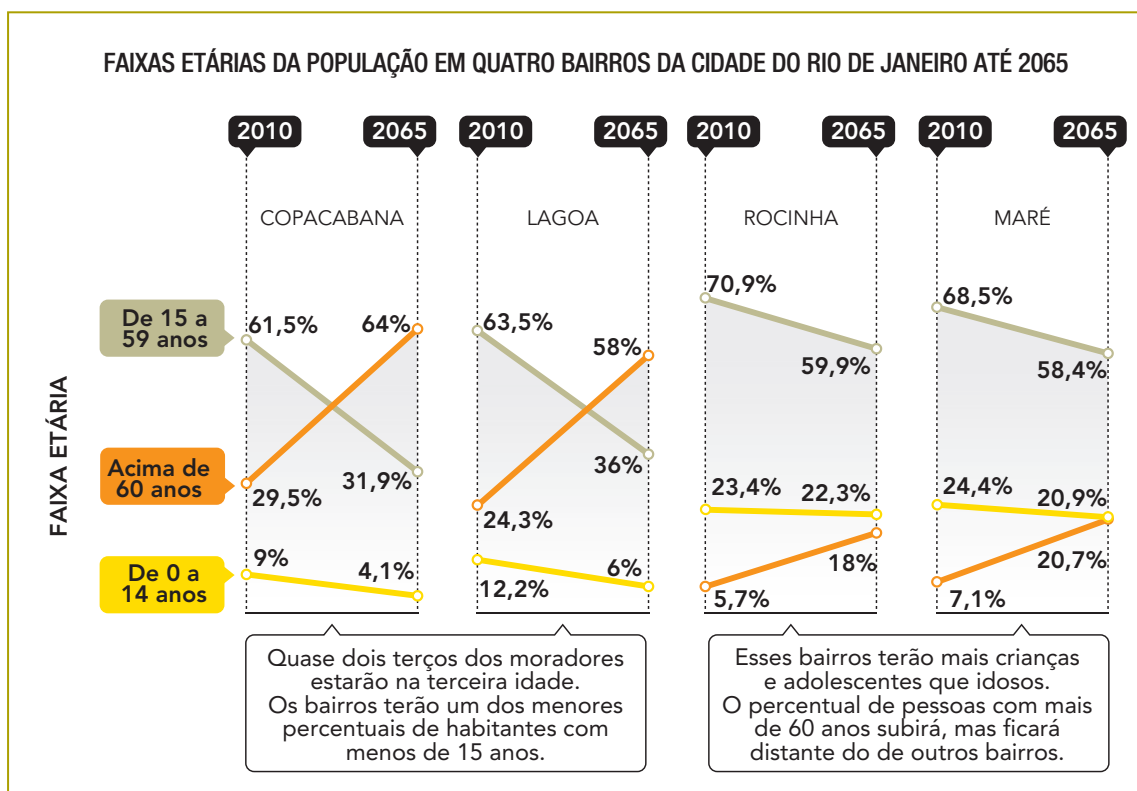


---



---

QUESTÃO  
02



Comparando as projeções para Copacabana e Lagoa com aquelas para Rocinha e Maré, no ano de 2065, aponte dois indicadores demográficos relevantes para explicar o contraste verificado. Justifique sua resposta.

---



---



---



---



---



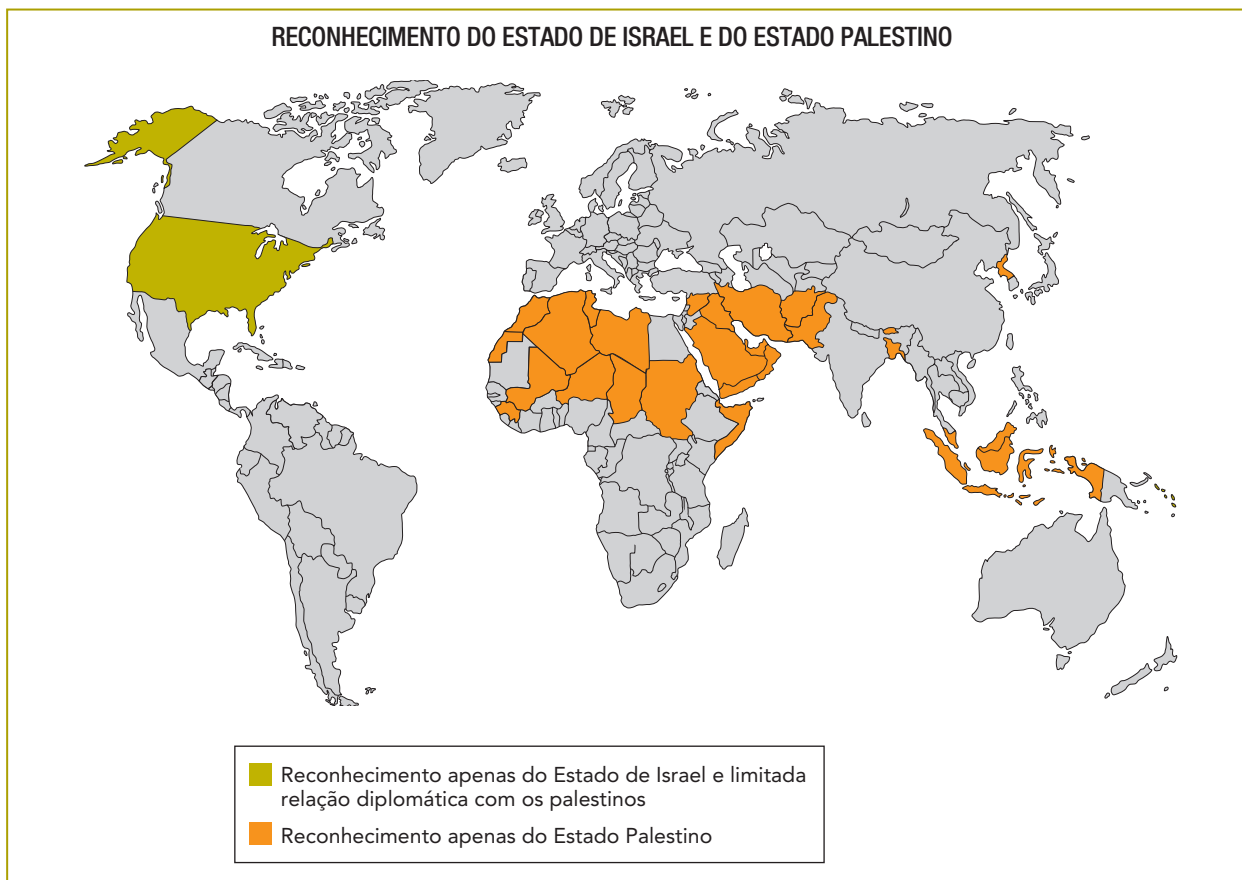
---



---

QUESTÃO  
03

O conflito entre israelenses e palestinos ganhou clara configuração territorial na primeira metade do século XX, tornando-se agudo a partir de 1948 e permanecendo sem horizonte de superação em futuro próximo. Como consequência, a comunidade internacional encontra-se dividida com relação ao reconhecimento diplomático de ambos, como se observa no mapa.



Adaptado de vox.com.

Considerando as informações do mapa, apresente um argumento que justifique a posição dos países que reconhecem apenas o Estado Palestino e outro que justifique a posição norte-americana.

---



---



---



---



---



---

QUESTÃO

04

**DA EUFORIA À IRRELEVÂNCIA**

A sigla BRIC – acrônimo para Brasil, Rússia, Índia e China – foi criada em 2001 pelo economista Jim O’Neil, num relatório que mostrava aos clientes do Banco Goldman Sachs o grande potencial econômico de tais países. Dois anos depois, o banco aprofundou a projeção em outro relatório, que sugeria que, em 50 anos, as economias dos BRIC seriam maiores do que a dos seis países mais ricos do mundo. Daí até a construção de uma narrativa sobre o limiar de uma nova ordem geopolítica internacional foi um passo. Em 2010, a África do Sul foi admitida ao clube, e a sigla sofreu uma adição, tornando-se BRICS. Os números dos BRICS, de fato, impressionam. No entanto, é preciso indagar se um grupo tão heterogêneo de países – e com interesses tão diversos – é capaz de formar um bloco coeso, com condições e com o propósito de se contrapor à hegemonia econômica americana.

CLÁUDIO CAMARGO

Adaptado de *Mundo Pangea*, outubro/2015.

Apresente duas características econômicas comuns aos BRICS que justifiquem as expectativas acerca desses países no início do século XXI. Em seguida, considerando a heterogeneidade do bloco, aponte duas diferenças entre seus integrantes, uma econômica e outra política.

---

---

---

---

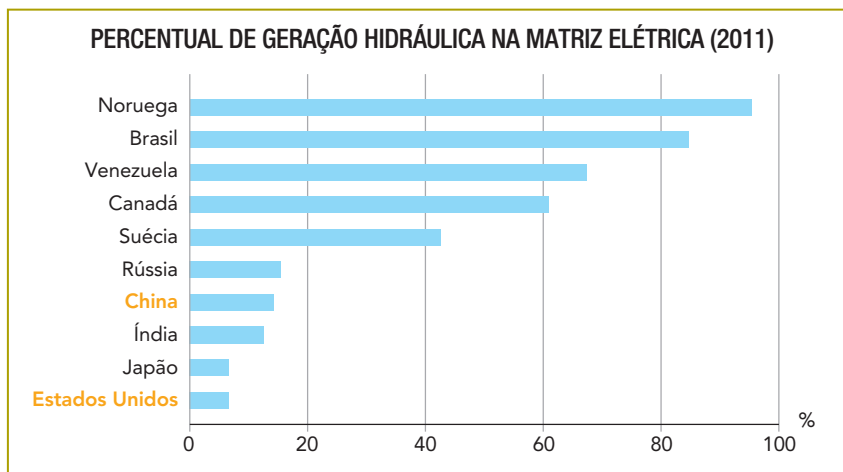
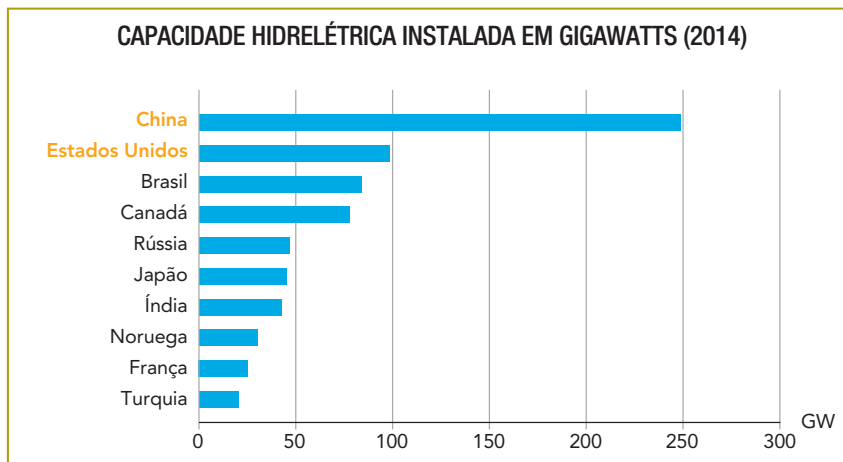
---

---

---

---

QUESTÃO  
05



A posição tanto da China quanto dos Estados Unidos no primeiro gráfico difere daquela que esses países assumem no segundo, o qual apresenta a proporção da fonte hidrúlica em relação ao total de eletricidade gerada pelas diversas fontes produtoras.

Explique essa diferença com base na economia desses dois países. Apresente, ainda, uma vantagem e um problema, ambos de caráter ambiental, para os países com os mais elevados percentuais de utilização de energia hidrelétrica.

---



---



---



---



---



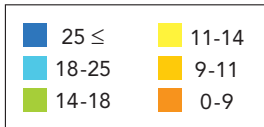
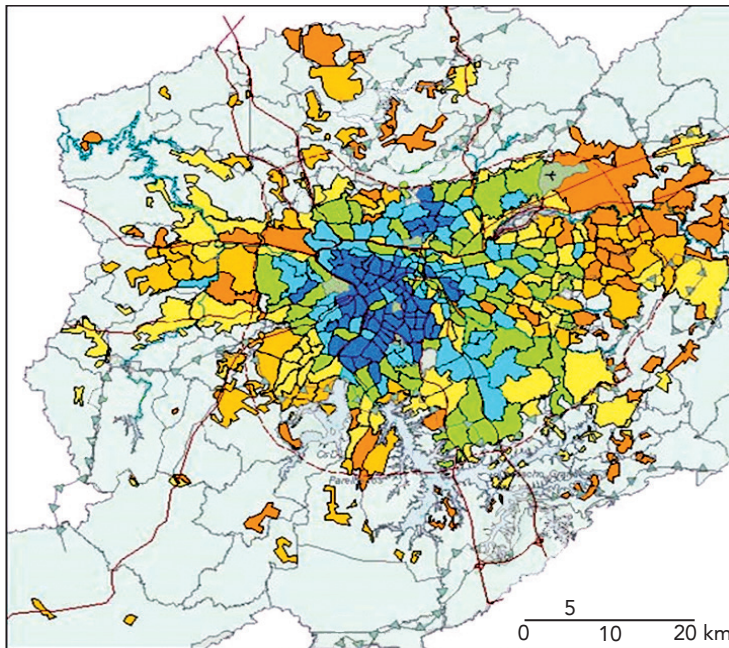
---



---

QUESTÃO  
06


RENDA FAMILIAR MENSAL MÉDIA NA REGIÃO METROPOLITANA DE SÃO PAULO EM SALÁRIOS MÍNIMOS (1997)




Adaptado de fau.usp.br.

SEGREGAÇÃO RESIDENCIAL URBANA

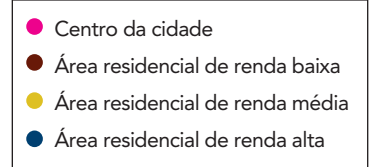
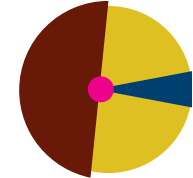
Modelo 1



Modelo 2



Modelo 3



Adaptado de ieexplorer.ieee.org.

Após a análise comparativa das imagens, aponte o modelo de segregação residencial urbana que se assemelha àquele representado no mapa. Em seguida, indique duas causas que explicam a valorização diferenciada de áreas residenciais na região metropolitana paulista.

---



---



---



---



---



---



QUESTÃO  
07**SATÉLITES ITALIANOS VÃO MONITORAR DESMATAMENTO NA AMAZÔNIA**

Os quatro satélites do projeto italiano Cosmo-SkyMed monitorarão uma área de um milhão de quilômetros quadrados da Floresta Amazônica e, em particular, o desmatamento no Brasil. O contrato, válido para 2016 e renovável por mais um ano, permitirá fornecer um quadro completo da situação, considerando a dificuldade do monitoramento contínuo de uma área onde o céu é constantemente coberto por nuvens. Graças aos radares que estão nos satélites, trabalhando dia e noite, será possível captar as imagens e os dados em qualquer condição meteorológica.

Adaptado de [ultimosegundo.ig.com.br](http://ultimosegundo.ig.com.br), 12/04/2016.

Cite duas ações humanas que provocam o desmatamento e duas consequências socioambientais desse processo em áreas florestais.

---

---

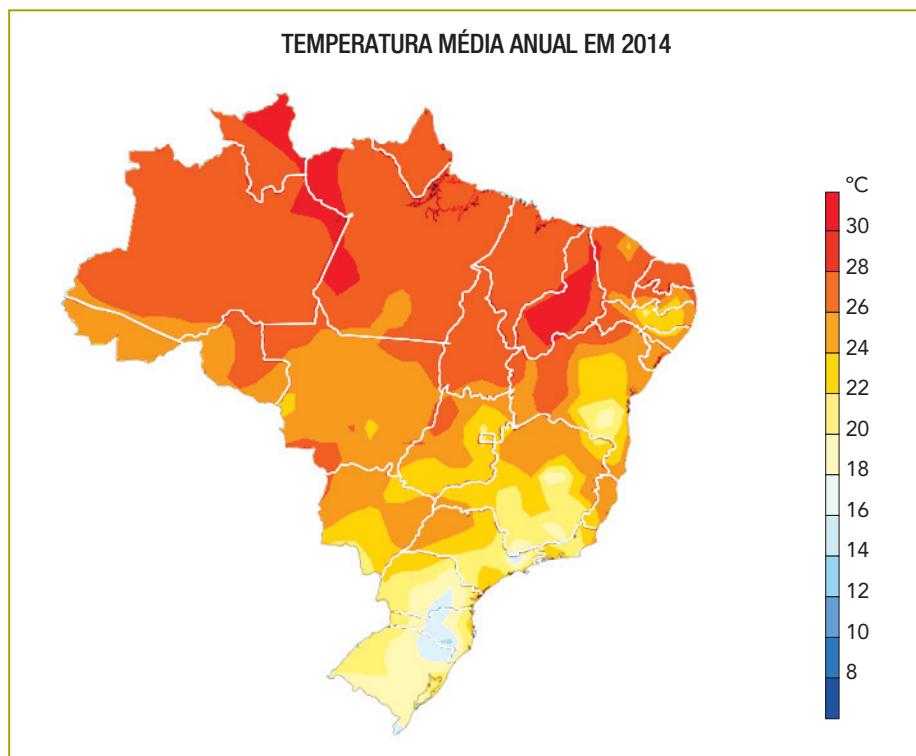
---

---

---

---

---

QUESTÃO  
08

embrapa.gov.br

É perceptível a diferença de temperaturas no território brasileiro, causada pela atuação de diversos fatores climáticos.

Identifique a região brasileira com predominância das maiores temperaturas médias anuais e explique esse comportamento a partir de um fator climático. Em seguida, aponte dois fatores que influenciam os valores de temperatura na região Sul do país.

---

---

---

---

---

---

---

QUESTÃO  
09**UNIÃO EUROPEIA DUPLICA RECURSOS DE AJUDA EMERGENCIAL PARA REFUGIADOS NA GRÉCIA**

A União Europeia anunciou que duplicará a ajuda de emergência para os refugiados na Grécia. O objetivo é melhorar as condições de vida das pessoas que estão paradas no país há meses enquanto tentam chegar aos países mais ricos da Europa, na fuga de seus países de origem. Cerca de 115 milhões de euros em ajuda de emergência estão sendo enviados pelo bloco, além dos 83 milhões de euros do início deste ano. O dinheiro será canalizado através de organizações humanitárias para melhorar os abrigos de moradia e o acesso das crianças refugiadas à educação.

Adaptado de [oglobo.globo.com](http://oglobo.globo.com), 11/09/2016.

O conceito de refugiado foi elaborado em 1951 em uma convenção da ONU. São consideradas refugiadas todas as pessoas que se encontram fora de seu país de origem e que não podem ou não querem regressar a ele por causa de fundados temores de perseguição.

Aponte dois motivos de perseguição às pessoas que se tornam refugiadas. Indique, ainda, duas consequências demográficas para as áreas de origem desses refugiados.

---

---

---

---

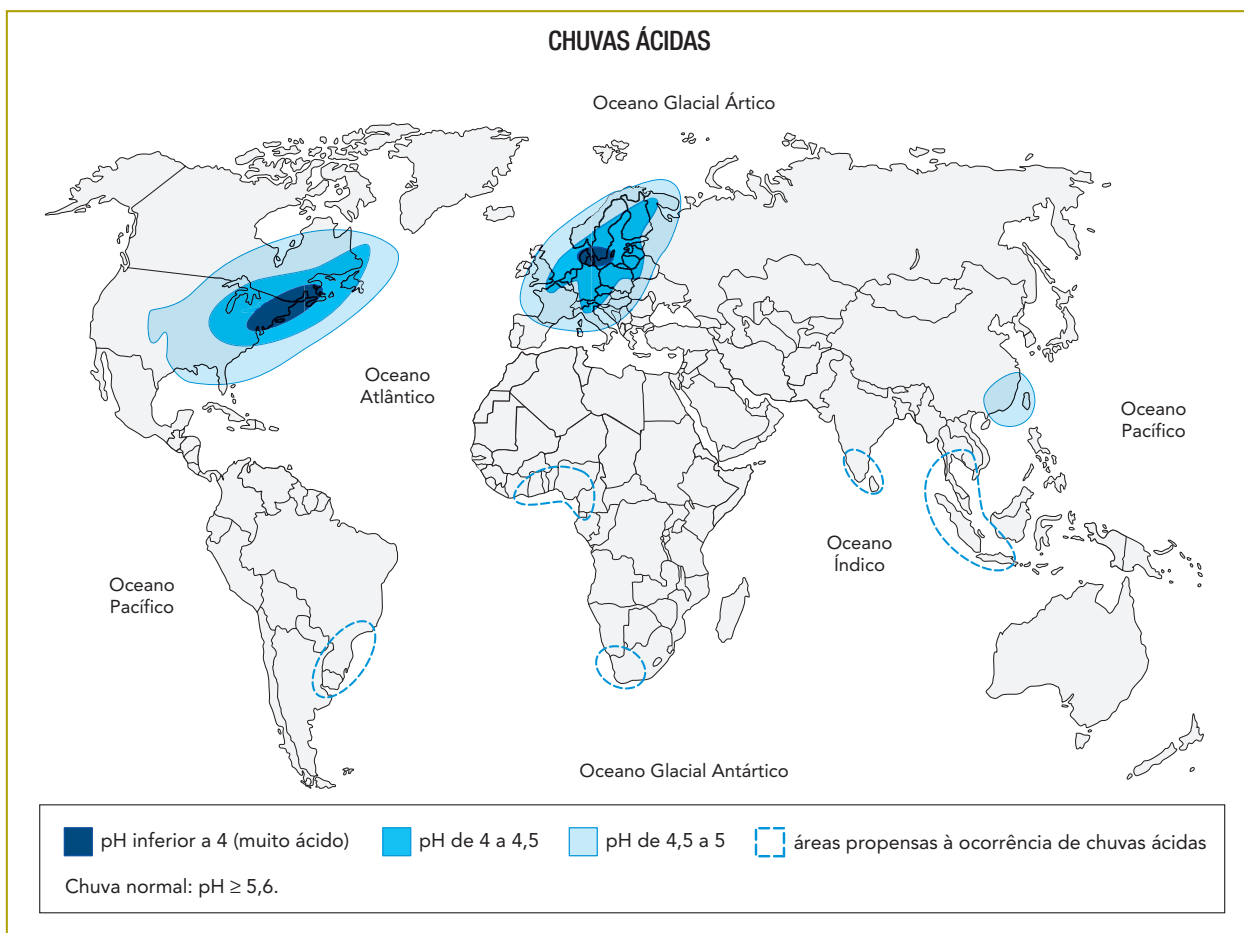
---

---

---

---

QUESTÃO  
10



Adaptado de MOREIRA, J. C.; SENE, E. de. *Projeto Múltiplo: geografia*. São Paulo: Scipione, 2014.

De forma geral, as chuvas apresentam naturalmente uma ligeira acidez em sua composição devido à dissolução do dióxido de carbono. As chuvas com elevada deposição de ácidos, entretanto, são um problema gerado pelas atividades humanas e podem ocasionar graves danos sociais e econômicos.

Com base no mapa, identifique duas áreas onde acontecem chuvas ácidas com maior intensidade. Apresente, também, uma causa desse fenômeno e uma consequência para as áreas onde ele ocorre.

---



---



---



---



---



---







