



# EXAME DISCURSIVO 2ª FASE

30/11/2014

# HISTÓRIA

## CADERNO DE PROVA

Este caderno, com dezesseis páginas numeradas sequencialmente, contém dez questões de História.

**Não abra o caderno antes de receber autorização.**

## INSTRUÇÕES

1. Verifique se você recebeu mais dois cadernos de prova.
2. Verifique se seu nome, seu número de inscrição e seu número do documento de identidade estão corretos nas sobrecapas dos três cadernos.

**Se houver algum erro, notifique o fiscal.**

3. Destaque, das sobrecapas, os comprovantes que têm seu nome e leve-os com você.
4. Ao receber autorização para abrir os cadernos, verifique se a impressão, a paginação e a numeração das questões estão corretas.

**Se houver algum erro, notifique o fiscal.**

5. Todas as respostas e o desenvolvimento das soluções, quando necessário, deverão ser apresentados nos espaços apropriados, com caneta azul ou preta de corpo transparente.

Não serão consideradas as questões respondidas fora desses espaços.

## INFORMAÇÕES GERAIS

O tempo disponível para fazer as provas é de cinco horas. Nada mais poderá ser registrado após o término desse prazo.

Ao terminar, entregue os três cadernos ao fiscal.

Nas salas de prova, não será permitido aos candidatos portar arma de fogo, fumar, usar relógio, óculos escuros ou boné, chapéu, viseira ou gorro de qualquer tipo, bem como utilizar lápis, canetas de material não transparente, corretores ortográficos líquidos ou similares.

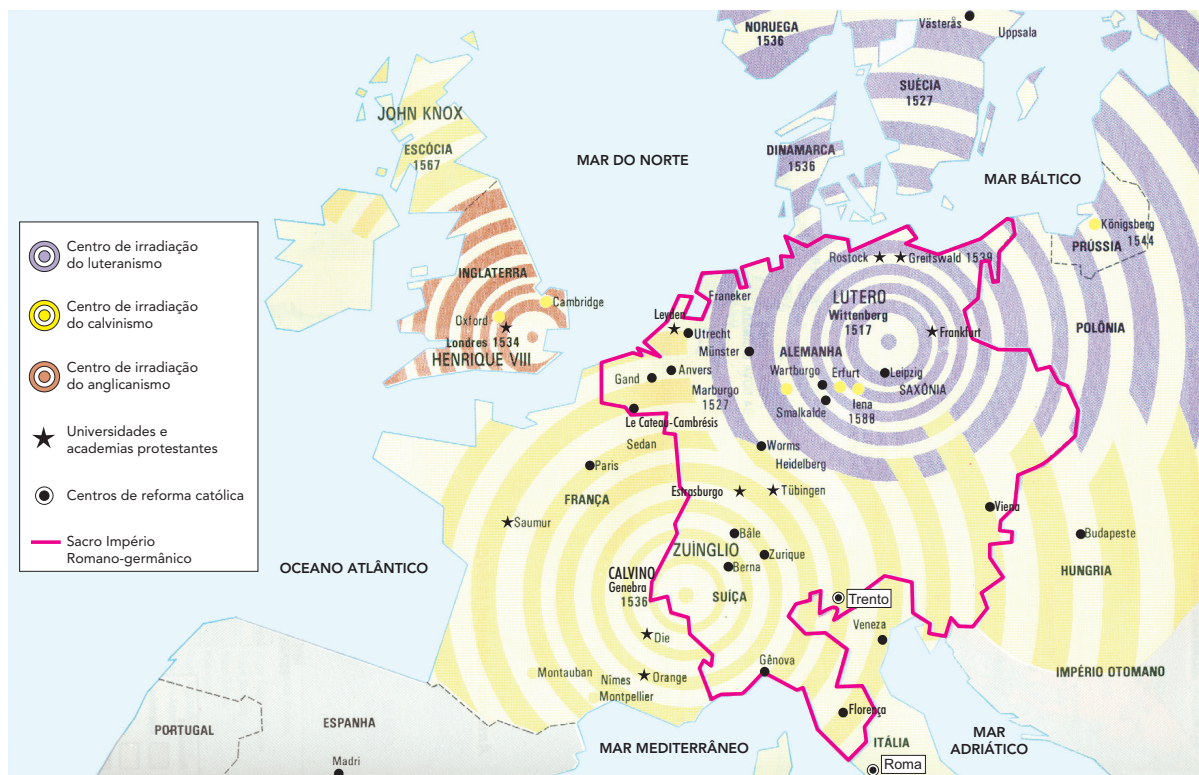
Será eliminado do Vestibular Estadual 2015 o candidato que, durante a prova, utilizar qualquer instrumento de cálculo e/ou qualquer meio de obtenção de informações, eletrônicos ou não, tais como calculadoras, agendas, computadores, rádios, telefones, receptores, livros e anotações.

Será também eliminado o candidato que se ausentar da sala levando consigo qualquer material de prova.

**BOA PROVA!**



REFORMA PROTESTANTE



Adaptado de PAZZINATO, A. L. ; SENISE, M. H. V. *História moderna e contemporânea*. São Paulo: Ática, 1992.

Nos séculos XVI e XVII, o surgimento e a expansão de diversas religiões cristãs, genericamente chamadas de protestantes, alteraram as condições políticas e sociais do Ocidente europeu.

Identifique dois efeitos políticos da expansão das Igrejas protestantes para as sociedades europeias. Apresente, ainda, uma das reações da Igreja Católica a essa expansão.

---



---



---



---



---



---



---

02



Fotografia das ruínas do Real Forte do Príncipe da Beira

funceb.org.br



Tela "Conquista do Amazonas" (1907), de Antonio Parreiras

dezenovevinte.net

As imagens remetem a dois marcos históricos do processo de conquista e ocupação da região amazônica pela Coroa de Portugal: a construção do Real Forte do Príncipe da Beira na margem direita do Rio Guaporé, entre 1776 e 1783, e a expedição à região do Amazonas comandada por Pedro Teixeira, ocorrida entre 1637 e 1639.

Identifique duas estratégias da colonização portuguesa na Amazônia ao longo dos séculos XVII e XVIII. Em seguida, aponte duas características físicas ou demográficas dessa região que tenham interferido nas estratégias de colonização.

---



---



---



---



---



---




---

03

No Brasil, em finais do século XVIII, o descontentamento com o poder metropolitano deu origem a rebeliões que questionavam o domínio político português. Dentre essas rebeliões, destacam-se a Inconfidência Mineira (1789) e a Conjuração Baiana (1798).

#### LEMA DA INCONFIDÊNCIA MINEIRA



historiabrasileira.com

#### AVISO AO POVO BAHIENSE

Ó vós, Povo, que nascestes para ser livres e para gozar dos bons efeitos da Liberdade, ó vós, Povos, que viveis flagelados com o pleno poder do indigno coroadado, esse mesmo rei que vós criastes; esse mesmo rei tirano é quem se firma no trono para vos vexar, para vos roubar e para vos maltratar. Homens, o tempo é chegado para a vossa ressurreição, sim, para vós ressuscitardes do abismo da escravidão, para levantardes a sagrada Bandeira da Liberdade. As nações do mundo todas têm seus olhos fixos na França, a liberdade é agradável para todos. O dia da nossa revolução, da nossa Liberdade e da nossa felicidade está para chegar. Anima-vos que sereis felizes.

Trecho do panfleto revolucionário afixado nas ruas de Salvador na manhã de 12 de agosto de 1798. Adaptado de PRIORE, M. del e outros. *Documentos de história do Brasil: de Cabral aos anos 90*. São Paulo: Scipione, 1997.

Aponte duas diferenças entre a Inconfidência Mineira e a Conjuração Baiana. Cite, também, dois movimentos políticos ou filosóficos que influenciaram essas insurreições.

---



---



---



---



---



---



---

**CARTA DE CONVOCAÇÃO DOS ESTADOS GERAIS**

Por ordem do Rei.

Temos necessidade de nossos fiéis súditos para nos ajudarem a superar todas as dificuldades em que nos achamos e para estabelecer uma ordem constante e invariável em todas as partes do governo que interessam à felicidade dos nossos súditos e à prosperidade de nosso reino. Esses grandes motivos nos determinaram convocar a assembleia dos Estados de todas as províncias sob nossa obediência, para que seja achado, o mais rapidamente possível, um remédio eficaz para os males do Estado e para que os abusos de toda espécie sejam reformados e prevenidos.

Versalhes, 24 de janeiro de 1789.

Adaptado de MATTOSO, K. de Q.. *Textos e documentos para o estudo de história contemporânea*. São Paulo: Edusp, 1976.

A convocação dos Estados Gerais deu início à Revolução Francesa, ocasionando um conjunto de mudanças que abalaram não só a França, mas também o mundo ocidental em finais do século XVIII.

Cite um motivo para a convocação dos Estados Gerais na França, em 1789, e apresente duas consequências da Revolução Francesa para as sociedades europeias e americanas.

---

---

---

---

---

---

---

---



05

Observe as obras de pintores brasileiros reproduzidas abaixo. A primeira se insere no contexto do Romantismo, no século XIX, e a segunda no do Modernismo, no século XX, movimentos culturais que difundiram características e símbolos distintos para a identidade nacional.



“Primeira missa no Brasil” (1860), de Victor Meirelles

[historiaporimagem.blogspot.com.br](http://historiaporimagem.blogspot.com.br)



“Café” (1935), de Candido Portinari

[portinari.org.br](http://portinari.org.br)

A partir de elementos presentes nas pinturas, indique uma proposta do Romantismo e uma do Modernismo que explicitem a forma de cada um representar a composição étnica do povo brasileiro.

---



---



---



---



---



---



---

06

A Guerra do Paraguai (1864-1870) foi o conflito externo de maior repercussão para os países envolvidos – Paraguai, Brasil, Argentina e Uruguai –, quer quanto à mobilização e perda de homens, quer quanto aos aspectos políticos e financeiros. Essa guerra foi, na verdade, resultado do processo de construção dos Estados nacionais no rio da Prata e, ao mesmo tempo, marco nas suas consolidações.

Adaptado de DORATIOTO, F. F. M. *Maldita guerra: nova história da Guerra do Paraguai*. São Paulo: Companhia das Letras, 2002.

Os motivos que justificaram a Guerra do Paraguai, ou Guerra da Tríplice Aliança, continuam gerando controvérsias cento e cinquenta anos depois.

Apresente dois motivos que expliquem essa guerra, tendo em vista as disputas na região do rio da Prata durante a segunda metade do século XIX.

---

---

---

---

---

---

---



07



Avenue des Champs Élysées, Paris, 1900



Av. Rio Branco, Rio de Janeiro, década de 1920

[espacomorgenlicht.wordpress.com](http://espacomorgenlicht.wordpress.com)

A partir de meados do século XIX, a expansão urbana passou a ser guiada por um modelo de modernização cujas reformas modificaram profundamente as grandes cidades e a vida de seus habitantes. No início do século XX, o Brasil, apesar de encontrar-se em um contexto diverso do europeu, inspirou-se na reforma efetuada em Paris pelo Barão Haussman. A Reforma Pereira Passos (1902-1906) deu início a um processo de transformação do Rio de Janeiro na “Paris dos Trópicos”.

Cite dois objetivos da reforma urbana de Pereira Passos e um efeito dessa reforma para o processo de urbanização da cidade do Rio de Janeiro.

---

---

---

---

---

---

---

---



Passeata dos Cem Mil, Rio de Janeiro, 26/06/1968

alerj.rj.gov.br

O ano de 1968 tornou-se sinônimo de uma rebelião estudantil mundial. Mas 1968 não existiu de uma forma isolada, ele foi o ponto culminante de uma década de movimentos que se espalharam por quase todo o planeta. No Brasil, na França, no México, nos Estados Unidos, na Espanha, no Canadá, na Argentina, na Venezuela, na Polônia, na Tchecoslováquia, países com diferentes realidades políticas e diversas condições econômicas se viram enfrentando um mesmo fenômeno político: rebeliões de jovens estudantes universitários e secundaristas.

Adaptado de ARAUJO, M. P. *Memórias estudantis: da fundação da UNE aos nossos dias*. Rio de Janeiro: Relume Dumará, 2007.

Os movimentos de contestação política ocorridos na década de 1960 tiveram motivações variadas. No Brasil, a Passeata dos Cem Mil foi o episódio mais marcante nesse contexto.

Aponte dois elementos do contexto político brasileiro da época associados diretamente à ocorrência dessa passeata. Em seguida, apresente um motivo que, em 1968, contribuiu para a eclosão de revoltas em um dos outros países citados no texto.

---

---

---

---


---

---

---

---

09



**Ex-prisioneiro caminha em direção ao memorial de Mauthausen**

Um novo memorial foi inaugurado no campo de concentração nazista de Mauthausen, na Áustria, com a presença de três chefes de Estado: o austríaco Heinz Fischer, o húngaro Janos Ader e o polonês Bronislaw Komorowski, além da ministra israelense da Justiça, Tzipi Livni. O novo memorial – “Mauthausen, lugar de um crime” – inclui duas exposições que revelam o dia a dia do campo de concentração através de entrevistas com 48 sobreviventes. No total, duzentas mil pessoas, procedentes de quarenta países, incluindo cerca de cinquenta mil judeus, foram detidas até 1945 em Mauthausen. Ao menos noventa mil morreram devido ao extenuante trabalho nas minas de granito, à má nutrição, às doenças e às execuções.

*Adaptado de notícias.r7.com, 05/05/2013.*

O Holocausto vem sendo cada vez mais associado à memória histórica de sociedades europeias. Indique duas repercussões do Holocausto para o contexto internacional posterior ao fim da Segunda Guerra Mundial (1939-1945). Indique, também, a importância simbólica da criação de memoriais como o citado na reportagem.

---



---



---



---



---



---



---

## MAPA DOS TERRITÓRIOS OCUPADOS PELO ESTADO ISLÂMICO



Adaptado de [img.rtp.pt](http://img.rtp.pt), 04/07/2014.

O grupo que criou o atual Estado Islâmico foi formado no Iraque, em 2006, por iniciativa da Al-Qaeda. Seu principal líder, Abu Bakr al-Baghdadi, proclamou, em junho de 2014, um “califado” abrangendo cerca de 25% da Síria e 40% do Iraque. A maioria dos territórios controlados pelo Estado Islâmico, principalmente no Iraque, são desérticos. Para Romain Caillet, especialista em movimentos islâmicos, o grupo sobrevive essencialmente de autofinanciamento. Seus métodos são uma mistura de terror e prestação de serviços sociais para as populações que estão sob seu controle.

Adaptado de [diariodepernambuco.com.br](http://diariodepernambuco.com.br), 21/08/2014.

O Estado Islâmico criado em regiões do Oriente Médio alterou as relações entre os governos locais e muitas nações ocidentais, gerando novas ameaças e conflitos, como se observa por meio do mapa e da reportagem.

Identifique uma característica da ação política do grupo que criou o Estado Islâmico. Em seguida, aponte um motivo para a oposição norte-americana à sua existência.

---



---



---



---



---



---



---









