



# EXAME DISCURSIVO

## 2ª FASE

02/12/2012

# Geografia

## Caderno de prova

Este caderno, com dezesseis páginas numeradas sequencialmente, contém dez questões de Geografia. **Não abra o caderno antes de receber autorização.**

## Instruções

1. Verifique se você recebeu mais dois cadernos de prova.
2. Verifique se seu nome, seu número de inscrição e seu número do documento de identidade estão corretos nas sobrecapas dos três cadernos.  
**Se houver algum erro, notifique o fiscal.**
3. Destaque, das sobrecapas, os comprovantes que têm seu nome e leve-os com você.
4. Ao receber autorização para abrir os cadernos, verifique se a impressão, a paginação e a numeração das questões estão corretas.  
**Se houver algum erro, notifique o fiscal.**
5. Todas as respostas e o desenvolvimento das soluções, quando necessário, deverão ser apresentados nos espaços apropriados, com caneta azul ou preta.  
**Não serão consideradas as questões respondidas fora desses espaços.**

## Informações gerais

O tempo disponível para fazer as provas é de cinco horas. Nada mais poderá ser registrado após o término desse prazo.

Ao terminar, entregue **os três cadernos** ao fiscal.

Nas salas de prova, não será permitido aos candidatos portar arma de fogo, fumar, usar relógio digital ou boné de qualquer tipo, bem como utilizar corretores ortográficos líquidos ou similares.

Será eliminado do Vestibular Estadual 2013 o candidato que, durante a prova, utilizar qualquer instrumento de cálculo e/ou qualquer meio de obtenção de informações, eletrônicos ou não, tais como calculadoras, agendas, computadores, rádios, telefones, receptores, livros e anotações.

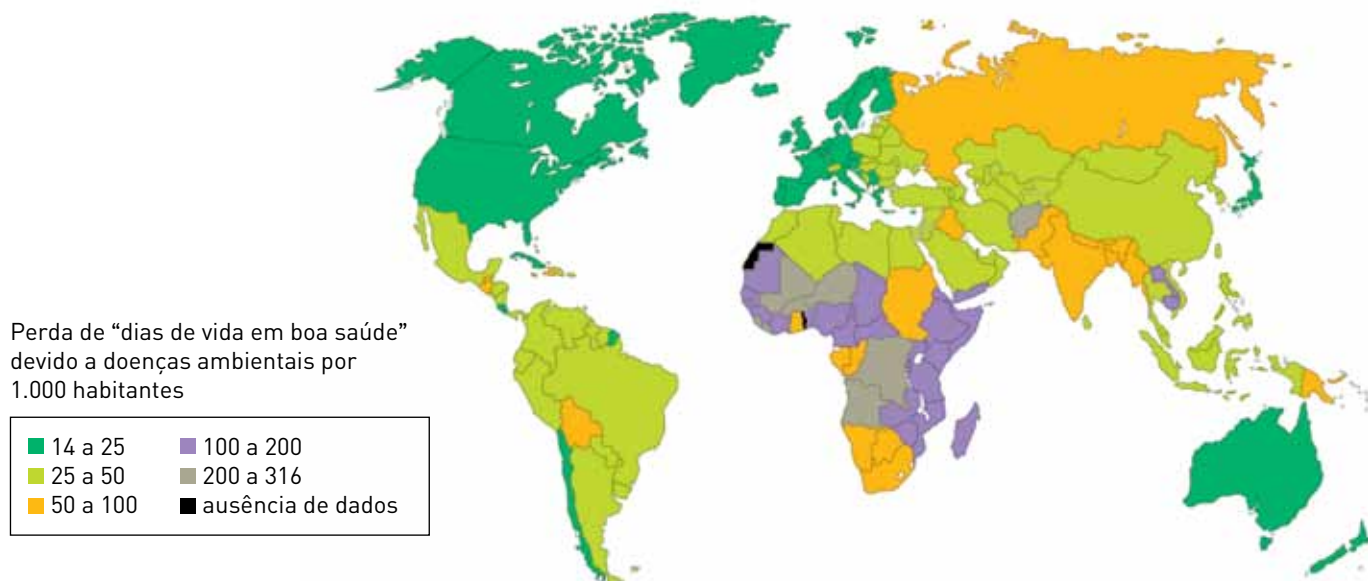
Será também eliminado o candidato que se ausentar da sala levando consigo qualquer material de prova.

**BOA PROVA!**



## Questão 01

### Qualidade do ambiente e saúde da população



Adaptado de *Atlas do Meio Ambiente Le Monde Diplomatique Brasil*, São Paulo: Instituto Pólis, 2008.

A qualidade do ambiente no qual vivem os grupos sociais, tanto no campo quanto na cidade, tem impacto direto sobre a saúde de seus integrantes.

Com base no mapa, cite um dos países onde a taxa de perda de “dias de vida em boa saúde” devido a doenças ambientais está no nível mais baixo e identifique o continente em que a média dessa taxa é mais elevada.

Em seguida, apresente dois exemplos de políticas públicas capazes de reduzir os efeitos de um ambiente degradado sobre a saúde pública.

---



---



---



---



---



---



---

## Questão 02

É através da paisagem que os geógrafos têm, geralmente, abordado os problemas culturais: esses pesquisadores são sensíveis à diversidade das formas construídas, aos sistemas agrários, às arquiteturas e, em outros domínios, aos artefatos e aos costumes.

Adaptado de CLAVAL, Paul. *A geografia cultural*. Florianópolis: Editora da UFSC, 1999.

QUADRO 1



desenhandoobrasil.com.br



consciencia.org

QUADRO 2



desenhospretoebranco.blogspot.com.br



consciencia.org

Nas imagens acima, as paisagens e os tipos físicos estão associados a dois espaços brasileiros distintos. Identifique o bioma representado, respectivamente, no quadro 1 e no quadro 2. Indique, também, uma característica cultural própria de cada um deles.

---



---



---



---



---



---

## Questão 03

### Aposta no transporte

Em um esforço que superou as previsões mais ousadas da iniciativa privada, o governo federal anunciou ontem o que chamou de o maior plano de investimentos em transportes da história, envolvendo a concessão de ferrovias e rodovias à iniciativa privada. O setor de ferrovias é o que deve receber o maior volume de investimentos. Serão R\$ 91 bilhões em 10 mil quilômetros de novas linhas, para criar uma malha que ligue as principais regiões produtoras do país aos maiores portos.



Adaptado de *O Globo*, 16/08/2012.

A reportagem aborda o plano de investimentos anunciado em 2012 pelo governo federal.

Aponte duas justificativas econômicas para a prioridade dada pelo governo ao setor ferroviário.

---



---



---



---



---



---

## Questão 04

### Chile, Colômbia, Peru e México assinam a Aliança do Pacífico

Os presidentes do Chile, Colômbia, México e Peru subscreveram uma aliança para acelerar a integração entre os países de maior abertura comercial da América Latina. O bloco, que pretende avançar para uma livre circulação de bens, serviços, capitais e pessoas, espera que a Costa Rica se una a eles em curto prazo.

Os membros da Aliança do Pacífico, com exceção da Colômbia, fazem parte do Foro de Cooperação Econômica Ásia-Pacífico, que reúne 21 países, entre eles a gigante China.



Países da Aliança do Pacífico

Adaptado de elguialatino.com.br, 18/06/2012.

democraciapolitica.blogspot.com.br

Apresente dois argumentos favoráveis à decisão dos países integrantes da Aliança do Pacífico de formarem um bloco regional de comércio.

Em seguida, justifique a situação vantajosa resultante da posição geográfica do litoral desses países para a melhoria do seu desempenho no comércio internacional.

---



---



---



---



---



---



---

## Questão 05

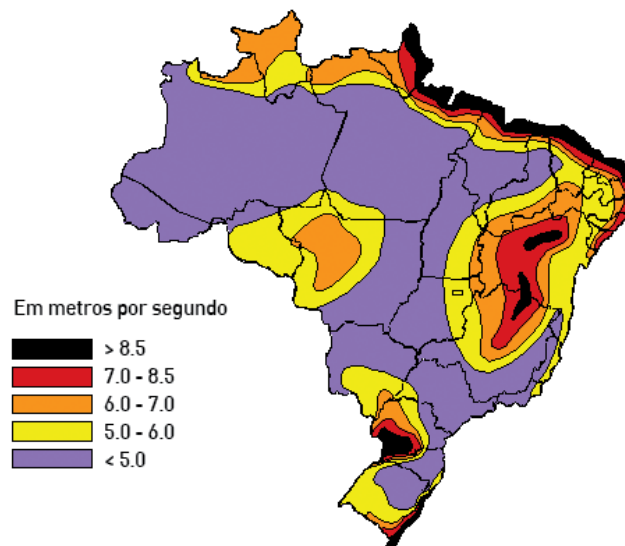
### Cresce geração de energia eólica no Brasil

A capacidade de geração de energia eólica no Brasil aumentou 77,7% em 2009, em relação ao ano anterior. Os dados divulgados pelo Conselho Global de Energia Eólica mostram que o Brasil cresceu mais do que o dobro da média mundial nesse período: 31%.

O crescimento brasileiro foi maior, por exemplo, que o dos Estados Unidos (39%), o da Índia (13%) e o da Europa (16%), mas menor que o da China, cuja capacidade de geração ampliou-se em 107%.

De acordo com a Associação Brasileira de Energia Eólica, a capacidade instalada desse tipo de energia no Brasil deve crescer ainda mais. Um leilão realizado em 2009 comercializou 1.805 MW que devem ser entregues até 2012.

### Velocidade média dos ventos no Brasil (1998)



Adaptado de portalexame.abril.com.br, 04/02/2010.

aneel.gov.br

Nomeie a macrorregião brasileira com maior potencial eólico. Apresente, também, duas vantagens ambientais das usinas eólicas.

---



---



---



---



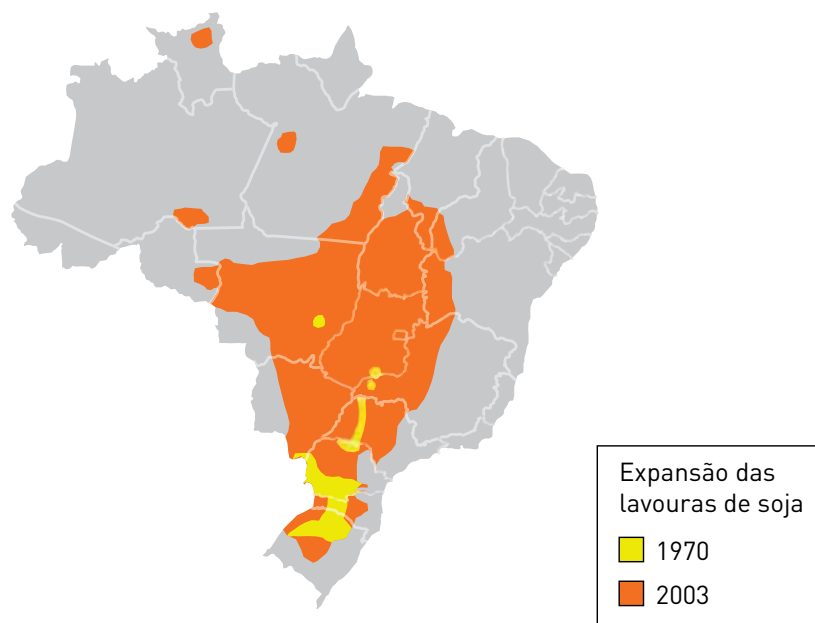
---



---



---

**Questão 06****O país da soja**

Adaptado de [jornaloexpresso.wordpress.com](http://jornaloexpresso.wordpress.com), 27/11/2010.

Nas últimas décadas, o avanço do cultivo da soja no Brasil, além de incorporar novas áreas, causou diversas modificações nos ecossistemas do país.

Identifique dois biomas brasileiros que sofreram expressiva degradação em função da recente expansão da soja no território nacional.

Aponte, também, dois fatores que explicam o elevado crescimento de sua produção na região central do Brasil.

---

---

---

---

---

---

---

---



**Questão 07****China é vista como a principal economia mundial**

A China já é percebida em grande parte do mundo como a principal economia mundial, embora na realidade seja a segunda, atrás dos Estados Unidos. Segundo pesquisa de opinião publicada pela imprensa chinesa, na qual foram ouvidas por telefone mais de 26 mil pessoas de 21 países, 41% disseram que a China é a maior potência econômica mundial, enquanto 40% acreditam que são os Estados Unidos. A tendência a favor dessa imagem da China é especialmente forte na Europa, onde 58% dos britânicos têm essa percepção.

Adaptado de [www1.folha.uol.com](http://www1.folha.uol.com), 14/06/2012.

Com elevadas taxas de crescimento em seu Produto Interno Bruto nos últimos anos, a China confirma sua posição de destaque nos cenários político e econômico mundiais.

Indique dois fatores que impulsionaram esse grande avanço da economia chinesa.

---

---

---

---

---

---

---

**Questão 08****Lixão de Gramacho fecha as portas**

O fechamento do lixão de Gramacho gerou polêmica ao longo dos últimos meses e uma grande incerteza na vida de aproximadamente 1.700 catadores. Vivendo no meio de 60 milhões de toneladas de lixo, centenas de famílias agora precisam buscar outra fonte de renda. A desativação gradativa do lixão começou em abril de 2011; a partir de agora, as 8,5 mil toneladas de lixo da cidade do Rio de Janeiro vão para a Central de Tratamento de Resíduos de Seropédica.

Adaptado de g1.globo.com, 03/06/2012.

A gestão de resíduos sólidos em grandes cidades envolve uma complexidade de problemas, o que demanda ações eficientes por parte do poder público.

Cite quatro problemas relacionados aos processos de coleta e descarte do lixo na região metropolitana do Rio de Janeiro.

---

---

---

---

---

---

---

**Questão 09****População absoluta das regiões brasileiras em 1940 e 2010  
(em milhões de habitantes)**

<b>Região</b>	<b>1940</b>	<b>2010</b>
Norte	1,6	15,9
Nordeste	14,4	53,1
Sudeste	18,3	80,4
Sul	5,7	27,4
Centro-Oeste	1,1	14,1

Adaptado de [ibge.gov.br](http://ibge.gov.br).

O crescimento populacional brasileiro foi significativo a partir da segunda metade do século passado. Entretanto, a análise da tabela indica que esse avanço não foi semelhante entre as regiões do país.

Nomeie as duas regiões brasileiras com maior crescimento relativo da população no período considerado. Em seguida, indique dois motivos que contribuíram para esse acentuado aumento populacional.

---

---

---

---

---

---

---

---

**Questão 10****Grupos censitários majoritários nos Estados Unidos (2000)**

Adaptado de MAGNOLI, Demétrio. *Geografia para o ensino médio*. São Paulo: Atual, 2008.

Os Estados Unidos se caracterizam pela presença de diferentes grupos étnicos em sua população. Alguns desses grupos encontram-se concentrados em determinadas áreas do território.

Identifique o grupo étnico majoritário, respectivamente, nas áreas B e C. Em seguida, justifique a maior concentração de cada um desses grupos nas respectivas áreas do território estadunidense.

---

---

---

---

---

---

---







